



# LICEO AERONÁUTICO MILITAR

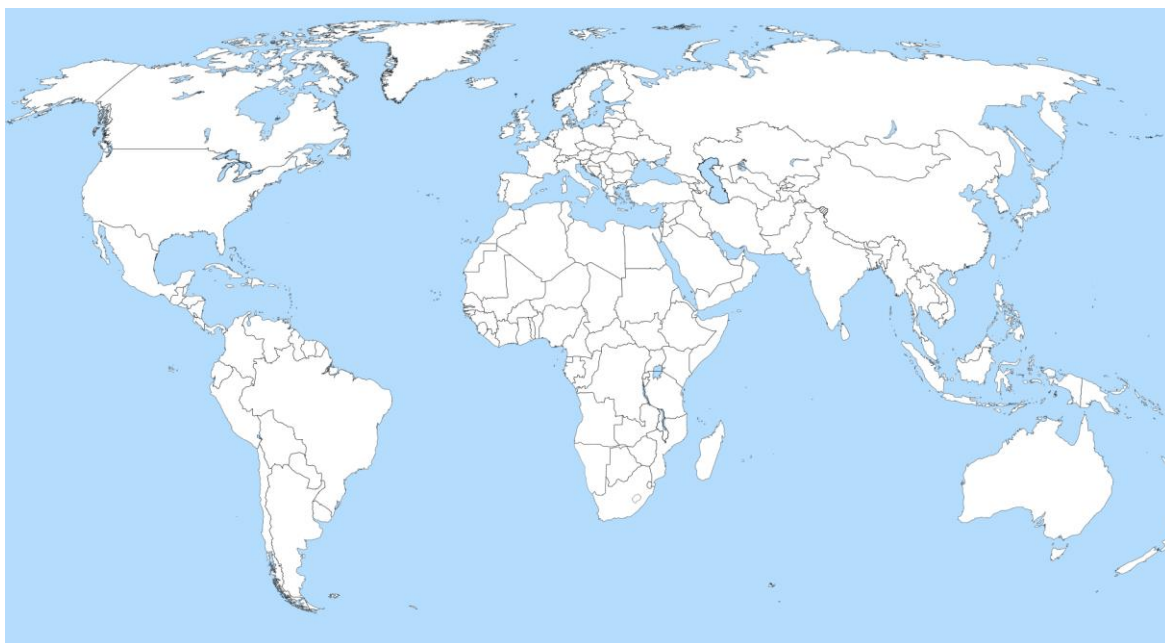
---

## CUADERNILLO DE EJERCITACIÓN PARA EXAMEN DE INGRESO DE 2° AÑO

**Materia: Geografía**

**Ciclo lectivo: 2024**

1. Observe y analice este mapa



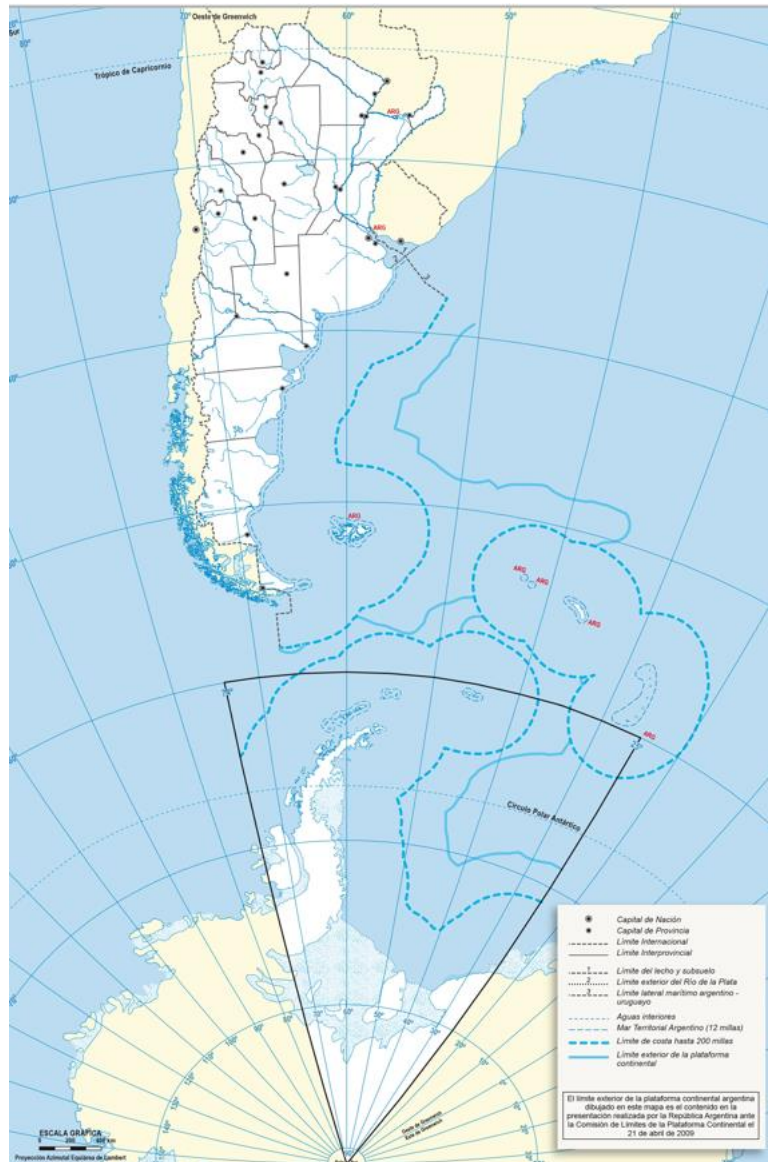
2. ¿En qué hemisferio se encuentra la República Argentina? Marque y nombre los 4 hemisferios.
3. Los hemisferios se dividen por la línea del Ecuador y por el Meridiano de Greenwich. Marque en el mapa estas dos coordenadas geográficas.
4. ¿A qué latitud y qué longitud se encuentra, aproximadamente nuestro país? Explique brevemente qué es la latitud y qué es la longitud.
5. La Argentina se encuentra dentro de un continente. ¿Cuál? ¿Qué es un continente? ¿Cuáles son los otros continentes? Márquelos en el mapa.

6. La Argentina limita al este con un océano. ¿Cuál es ese océano? Marque en el mapa todos los océanos.
7. Observe y analice este mapa



8. Indique donde se encuentra la República Argentina en el mapa anterior
9. ¿En qué se diferencia este último mapa del anterior?
10. ¿Sería válido colocar a la Argentina así? ¿Está correcto este mapa? Fundamente su respuesta utilizando conocimientos sobre el movimiento de rotación terrestre.
11. Cuando en Argentina es verano, en Estados Unidos de Norteamérica y en Europa es invierno. ¿Por qué ocurre esto?

12. Observe y analice este mapa



13. Responda: ¿Qué representa ese triángulo grande que está al sur?
14. Compare: ¿qué diferencias existen en cuanto a la soberanía argentina sobre ese territorio de ese triángulo y sobre el resto del territorio nacional?
15. Indague: ¿por qué ese territorio de ese triángulo puede ser importante para el país?
16. A este mapa completo se lo suele llamar mapa de la Argentina bicontinental. ¿Por qué se lo llamará así?
17. Sobre el arco superior de dicho triángulo se ubican algunas islas, algunas más al oeste y otras más al este. ¿Cómo se llaman esas islas?
18. Investigue: ¿en qué situación se encuentra el ejercicio de la soberanía argentina sobre todas esas islas? ¿por qué?

19. Observe y analice el siguiente mapa:



20. Ubique en el mapa anterior cada una de las Provincias Argentina
21. Elabore un mapa de dos columnas, colocando en la primera columna el nombre de la Provincia y en la segunda columna el nombre de su ciudad capital.
22. Algunas ciudades capitales de Provincia se encuentran muy cerca de la ciudad capital de otra Provincia. Responda: cuáles capitales muy próximas a otras puede identificar?
23. Analice: ¿por qué será que las ciudades capitales de Provincia se fueron fundadas tan cerca? ¿por qué a pesar de estar tan cerca corresponden a Provincias diferentes?
24. Identifique, ¿en qué Provincia se encuentra el Liceo Aeronáutico Militar, y a qué distancia de su ciudad capital?

25. En la actualidad las ciudades no son independientes o soberanas, sino que responden al gobierno nacional. Pero en el pasado existieron ciudades diferentes, conocidas como “ciudades-estado”. También existen hoy día en otros continentes. Investigue: ¿qué es una ciudad estado? ¿En qué se diferencian de las ciudades actuales?
26. Identifique en el mapa el Río Paraná, responda dónde nace y dónde desemboca, y precise qué provincias recorre
27. Identifique en el mapa el Río Pilcomayo, y precise de qué país nos separa como límite
28. Identifique en el mapa el Río Uruguay, y precise de qué países nos separa como límite
29. Identifique en el mapa los ríos Deseado, Desaguadero, Colorado, y Bermejo, señalando qué Provincias recorre cada uno
30. En la provincia de Córdoba hay ríos conocidos por su número... ¿Cuáles son estos ríos y dónde se encuentra cada uno?
31. Identifique: Si un alumno del Liceo Aeronáutico quisiera ir a nadar a un río, ¿cuál es el río argentino que se encuentra más cerca del Liceo Aeronáutico Militar y aproximadamente a qué distancia se encuentra?
32. A lo largo de la historia muchas civilizaciones se edificaron a la vera de importantes ríos. Elabore un cuadro de doble entrada mencionando el nombre de las civilizaciones antiguas que se instalaron aprovechando el río Nilo, el río Éufrates, el río Nilo, el río Indo, el río Amarillo, el río Tiber, el río Jordán.
33. Así como ocurrió con civilizaciones antiguas, muchas ciudades importantes argentinas también se fundaron en las costas de importantes ríos. Mencione al menos 6 de estas ciudades Argentinas, indicando en cada caso el río que se encuentra a su lado.
34. Una accidente geográfico común es la península. Marque en el mapa y nombre una importante península que exista en Argentina.
35. También existieron penínsulas relevantes en la antigüedad. Nombre la península donde se encontraba la ciudad griega de Esparta, y describa brevemente las características que tenía la misma.



36. Observe y analice el siguiente mapa:



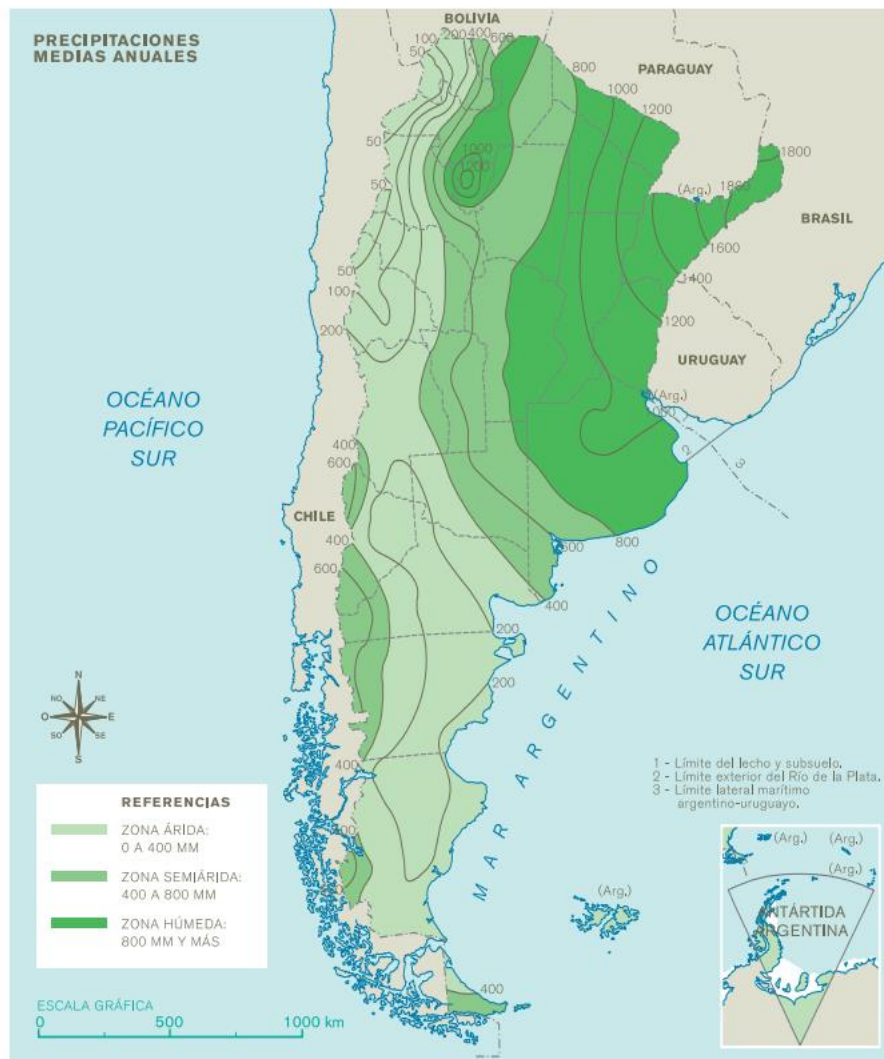
37. El mapa representa la producción agrícola argentina, y hay dibujitos que indican cuál es el producto más importante en cada lugar. Identifique cada uno de los dibujos (corresponden a cereales, uva –vino-, tabaco, algodón, frutas, madera, yerba). ¿En qué provincias encuentra dibujos que corresponden con dicha producción?
38. Los estados son más poderosos cuándo no solo venden materias primas sino que las elaboran y venden productos. ¿Qué diferencias existen entre las materias primas y los productos? Aporte al menos 3 ejemplos.
39. Identifique qué provincias argentinas se caracterizan por tener la mayor cantidad de fábricas

40. Observe y analice este mapa



41. El mapa representa la densidad demográfica, más oscuro es mayor densidad demográfica. ¿Qué vendría a ser la densidad demográfica?
42. ¿Cuáles son las Provincia con Mayor densidad demográfica?
43. ¿Por qué considera que en esas Provincias la densidad demográfica es mayor que en otras?

44. Observe y analice este mapa



45. Responda: ¿qué vendrían a ser las precipitaciones?
46. Explique: ¿por qué el mapa habla de precipitaciones “medias anuales”? ¿qué querrá decir con medias anuales?
47. Analice: ¿por qué el verde de la derecha será más oscuro que el de la izquierda?
48. Compare: ¿qué diferencias existirán entre lo que en el mapa se llama zona húmeda y lo que denomina zona árida?
49. Marque en el mapa, aproximadamente, el lugar donde se encuentra el Liceo Aeronáutico Militar, y precise si se encuentra en una zona de precipitaciones bajas, medias o altas.
50. Piense y fundamente: ¿qué zonas del mapa serán mejores para la práctica de la agricultura y la ganadería?



51. Observe y analice este mapa:



52. Compare: ¿qué diferencias principales existen entre los ambientes identificados como “selva” y como “estepa”?
53. Responda: ¿Qué tipo de ambiente correspondería al lugar donde se encuentra asentado el Liceo Aeronáutico Militar?
54. Piense: si tuviera la posibilidad de viajar a alguno de estos ambientes, que sea diferente del ambiente en el que usted vive, ¿cuál elegiría y por qué?
55. Describa: Si fuera de vacaciones al ambiente denominado “estepa patagónica”, ¿Cómo sería el relieve, la vegetación y la fauna que encontraría allí? Fundamente su respuesta

Bibliografía orientadora

(este listado es solo una orientación, puede utilizarse cualquier fuente bibliográfica)

Ministerio de Educación de la Nación, Ciencias Sociales 5, Segundo Ciclo, Núcleos de Aprendizajes Prioritarios,

<http://www.bnm.me.gov.ar/giga1/documentos/EL001102.pdf>

Enciclopedia de la Argentina, editorial Océano, Bs. As., 2019, 1240 páginas,

[https://www.oceano.com/oceano/visor\\_flash/index.html](https://www.oceano.com/oceano/visor_flash/index.html)

Enciclopedia Todo Argentina, sitio recomendado por el Ministerio de Cultura de la Nación, <https://www.todo-argentina.net>

Geoenciclopedia, <https://www.geoenciclopedia.com>

Nuevo Atlas de Geografía Universal para Primaria,

<https://www.orientacionandujar.es/wp-content/uploads/2013/12/NUEVO-ATLAS-DE-GEOGRAFIA-UNIVERSAL-PARA-PRIMARIA.pdf>

Enciclopedia Estudiantil de Geografía Universal, 3 tomos, editorial Grupo Dasa, Bs. As., 2021

Enciclopedia del Estudiante: La Geografía Argentina, editorial Santillana

Manual de Ciencias Sociales 5, para 5to. grado, editorial Kapeluz

Manual de Ciencias Sociales 5, para 5to. grado, editorial Santillana

Manual de Ciencias Sociales 5, para 5to. grado, editorial Tinta Fresca