



## LICEO AERONÁUTICO MILITAR

---

### CUADERNILLO DE EJERCITACIÓN PARA EXAMEN DE INGRESO DE 3° AÑO

**Materia: Geografía.**

**Ciclo lectivo: 2024**

**Profesores: Castellani Luisina, Jalaf Norma.**

#### Geografía

1. ¿Qué estudia la geografía? ¿Cuál es su objeto de estudio?
2. Define los siguientes conceptos geográficos: espacio geográfico - región - territorio - paisaje - ambiente.

#### Coordenadas Geográficas

3. ¿Qué son las coordenadas geográficas? ¿Para qué sirven?
4. Completa el siguiente cuadro:

|   | Paralelos | Meridianos |
|---|-----------|------------|
| ¿Qué son?   |           |            |
| ¿Cómo se numeran?                                   |           |            |
| ¿Qué permiten medir?                                |           |            |
| ¿Cómo se llama la línea que se encuentra en los 0°? |           |            |
| ¿Cómo se divide la Tierra?                          |           |            |

5. Explica la diferencia entre latitud y longitud.
6. ¿Qué son los mapas? ¿Qué ciencia se encarga de su estudio?
7. La orientación, la simbología, la proyección y la escala son elementos del mapa que

permiten su interpretación. Define cada uno de ellos.

8. Utilizando un mapa planisferio, calcula las coordenadas geográficas de:

- Ottawa
- Ciudad de Buenos Aires
- Moscú
- Sudáfrica

9. En un mapa planisferio marca:

- Línea del Ecuador
- Meridiano de Greenwich
- Trópico de Cáncer y de Capricornio
- Círculo polar ártico y círculo polar antártico
- Hemisferio norte, sur, este y oeste.

10. En el mapa anterior marca las siguientes coordenadas geográficas (se marca un punto y la letra correspondiente a la consigna).

a- Latitud: 60° norte, longitud: 110° oeste.

b- Latitud: 45° sur, longitud 60° este.

### América: características políticas.

11. En el siguiente mapa localiza:

- Continente americano
- Océanos que rodean el continente (Pacífico, Atlántico, Glacial ártico)
- Mar Caribe
- Línea del Ecuador y Meridiano de Greenwich.
- Pasaje de Drake.



12. Verdadero y falso. Corrige aquellas oraciones que sean incorrectas.
- América tiene una gran extensión latitudinal, lo que la ubica en ambos lados del Ecuador, por lo tanto en los hemisferios norte y sur.
  - Está ubicada en el hemisferio Este según el meridiano de Greenwich.
  - El continente americano está plenamente aislado de otras masas emergidas por estar rodeado de los Océanos Glacial Ártico, Atlántico y Pacífico. Esto da origen a un gran desarrollo costero.
  - América es el continente más grande del mundo.
  - Es posible encontrar relieves montañosos al este de todo el continente americano.
  - Gracias a su desarrollo longitudinal, es posible encontrar una gran variedad de climas y recursos naturales.

13. América está dividida en 35 Estados independientes y varios territorios no autónomos ¿Cuál es la diferencia entre un país independiente y un país dependiente? Menciona tres ejemplos de ambos casos.

14. Indica de qué país europeo depende cada uno de los siguientes territorios no autónomos que hay en nuestro continente:

Groenlandia:

Guadalupe:

Bermudas:

Anguila:

Islas Malvinas:

Aruba:

15. Marca en los siguientes mapas la división política de América, es decir, todos los países con sus capitales.





16. Completa el siguiente cuadro con las capitales de cada país:

| País           | Capital | País      | Capital |
|----------------|---------|-----------|---------|
| Canadá         |         | Jamaica   |         |
| Estados Unidos |         | Colombia  |         |
| México         |         | Venezuela |         |
| Guatemala      |         | Brasil    |         |
| Belice         |         | Chile     |         |

|             |  |           |  |
|-------------|--|-----------|--|
| El Salvador |  | Argentina |  |
| Uruguay     |  | Bolivia   |  |
| Paraguay    |  | Venezuela |  |
| Honduras    |  | Perú      |  |
| Cuba        |  | Ecuador   |  |

17. Según sus características físicas, el continente americano se divide en América del Norte, América central y América del sur. Explica qué territorios abarca cada sector y menciona sus principales características.

18. Según las características culturales América se divide en América Anglosajona, América Latina, Caribe, Hispanoamérica, Iberoamérica. Realiza una “ficha” de cada región de la siguiente manera:

- América .....
- Países que incluye:
  - Colonización:
  - Religión:
  - Lengua:
  - Nivel de desarrollo social y económico:

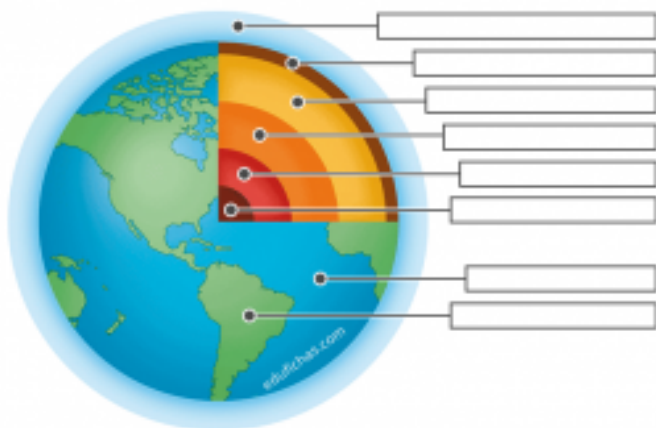
19. Observa los mapas e identifica a cuál de las Américas mencionadas corresponde cada uno.



América: características naturales

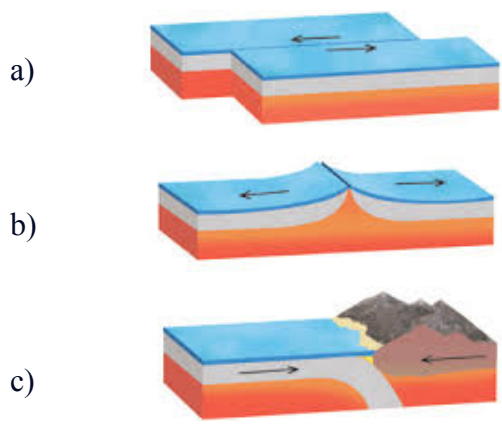
20. Completa en la siguiente imagen los nombres de las distintas capas de la Tierra. Luego haz una breve descripción de cada una de ellas.

Capas de la Tierra



21. ¿Qué son las placas tectónicas? ¿Por qué se mueven?

22. Identifica si se trata de un borde convergente, divergente o transformante. Explica lo que sucede en cada caso.



23. Completa el siguiente cuadro sobre los relieves de América.

|                               | Montaña | Meseta/Macizo | Llanura | Sierra |
|-------------------------------|---------|---------------|---------|--------|
| Descripción                   |         |               |         |        |
| Localización                  |         |               |         |        |
| Altura                        |         |               |         |        |
| Origen/formación              |         |               |         |        |
| Ejemplos de América del norte |         |               |         |        |
| Ejemplos de América del sur   |         |               |         |        |

24. ¿Cuál es la diferencia entre clima y tiempo?

25. ¿Qué es la amplitud térmica?

26. Se considera que el clima se compone a partir de cuatro **elementos**. A su vez existen cinco **factores** que influyen sobre dichos elementos. Completa el siguiente cuadro:

| Concepto                             | Elemento o factor | Descripción   |
|--------------------------------------|-------------------|---|
| Latitud                              |                   |   |
|                                      | Elemento          | Grado de calor presente en la atmósfera.                    |
| Vientos                              |                   |   |
|                                      |                   | A mayor altura menor temperatura y humedad.                 |
| Corrientes marinas                   | Factor            |   |
|                                      |                   | Peso que ejerce la atmósfera sobre la superficie terrestre. |
| Distancia al mar/<br>continentalidad |                   |   |
| Humedad                              | Elemento          |   |
|                                      | Factor            |   |

27. Observa el siguiente mapa sobre los climas de América y responde:





- a) Describe las características generales de los climas cálido, frío, templado y árido teniendo en cuenta: temperatura, precipitaciones, localización, estaciones.
  - b) ¿En qué parte de América se encuentran los climas cálidos? ¿Por qué razón?
  - c) ¿Qué factor influye en el clima de montaña? ¿En qué lugar de América se encuentra este clima?
  - d) En qué hemisferio existe un mayor desarrollo del clima frío ¿Por qué?
28. ¿Qué es la hidrografía?
29. ¿Que es una cuenca hidrográfica? ¿Cómo se clasifican?
30. El conjunto de *cuencas hidrográficas* cuyos ríos desembocan en un mismo lugar se denomina **vertiente**. En América existen cuatro vertientes ¿Cuáles son?
31. ¿Cuál es la diferencia entre causa y causal?
32. Observa el mapa de la Cuenca del Plata:



- a- Identifica y nombra qué países y qué provincias argentinas abarca dicha cuenca.
  - b- ¿A qué vertiente pertenece la Cuenca del Plata?
  - c- Nombra los ríos de nuestro país que pertenecen a dicha cuenca.
33. ¿Qué son los biomas?
34. Ubica los siguientes biomas según el tipo de clima en el que se encuentren: **Selva**- Tundra- Desierto- Pastizal- Bosque caducifolio- Sabana- Estepa- Bosque de coníferas. Luego describe brevemente cada uno.

| Clima  | Biomas  |
|--------|---|
| Cálido | - <b>Selva:</b> Presenta gran variedad de árboles de distintas alturas, con presencia de lianas, epífitas y parásitos. Este bioma se desarrolla en las zonas de clima ecuatorial. |
| Frío   |   |



|          |  |
|----------|--|
| Templado |  |
| Árido    |  |

América: características sociales.

35. ¿Qué es la migración?  
 ¿Cuáles pueden ser sus causas?
36. ¿Qué diferencia existe entre inmigrantes y refugiados?
37. Lee atentamente los titulares y resuelve:
- ¿Cuál es el tema que tienen en común todos estos titulares?
  - ¿Qué problemáticas muestran?
  - ¿De qué países son originarios los migrantes mencionados en las noticias?
  - ¿Qué países aparecen como receptores de la población?
  - ¿Qué dificultades se generan en estos países?

Diario *El país*      Lunes, 6 de agosto de 2001

**El 90% de los inmigrantes ilegales realiza trabajos no declarados en condiciones de explotación**

**Migrantes mexicanos en EE. UU. trabajan el triple que en México**

Fuente: noticias.universia.net, México, 11 de julio de 2012.

Clarín.com 20/11/2014

**Obama anunció medidas que benefician a millones de inmigrantes ilegales**

Jueves 4 de diciembre de 2014

**Mitos y realidades sobre los inmigrantes que viven en la Argentina**

Así lo reveló un informe de la consultora SEL respecto a los paraguayos, bolivianos y peruanos que lograron radicarse en el país.

Fuente: lanacion.com, Buenos Aires, 13 de diciembre de 2010.

**El lugar de Brasil donde llueven inmigrantes**

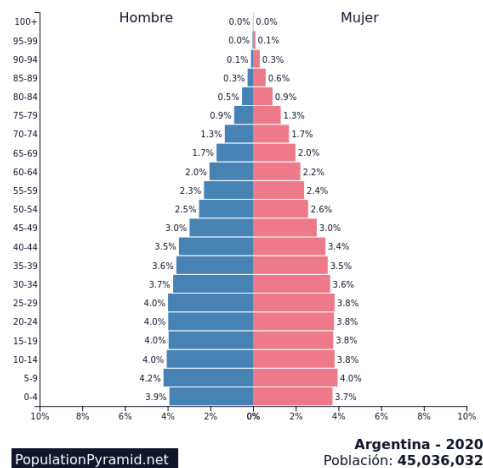
El haitiano Mirabel Riche nunca pensó que suriplo para venir a vivir a Brasil hace un mes incluiría riesgo de robos en la ruta por Perú o pasar sus primeros días en su nuevo país en un refugio colmado de inmigrantes como él, que duermen en el piso y forcejean por la comida cuando llega.

Fuente: BBC.com, 16 de abril de 2013.

38. Para estudiar la población se tiene en cuenta la natalidad, la mortalidad y la esperanza de vida. Explica cada uno de ellos.

39. Observa la piramide de poblacion de Argentina y responde:

- ¿Qué tipo de pirámide es?
- ¿Cómo es la natalidad, la mortalidad y la esperanza de vida en nuestro país?



40- Explica los conceptos de pobreza y desempleo.

41- Realiza un texto comparando la situación social (pobreza, desempleo, acceso a vivienda, salud, etc) entre América Latina y América Anglosajona.

**Bibliografía**

- Santillana. (2018). “Sociedades y espacios de América”. Link [https://drive.google.com/file/d/1AwGTiEHnRTh5o\\_idiU7greU5xBohvpFy/view](https://drive.google.com/file/d/1AwGTiEHnRTh5o_idiU7greU5xBohvpFy/view)

- Kapelusz. (2015). “Geografía de América”. Link <https://www.reddeapoyodigital.com/normalab/files/clic/normapack/kapepack/geografia-de-america-contextos-final/4/index.html>
- Kapelusz. (2016). “Geografía del mundo”. Link <https://www.reddeapoyodigital.com/normalab/files/clic/normapack/kapepack/geografia/geografia-del-mundo/8/index.html>

Elementos necesarios:

- Mapa planisferio político, hojas rayadas, lapicera azul, borrador, mapa político de América (opcional).